

第一节《人口迁移》导学案 （预习） Day 13

姓名： 完成评价：

【新课标要求】

运用资料，描述人口分布、迁移的特点及其影响因素

【课前预习】

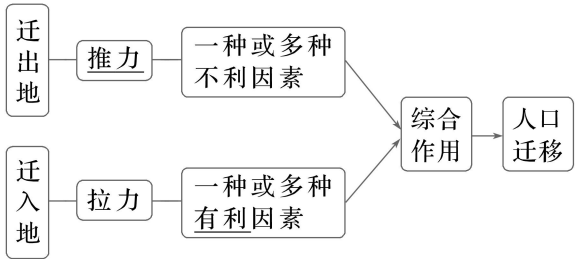
活动一 什么是人口迁移？读 P8 文字完成下列问题。

1. 概念：涉及人口居住地发生长期或_____改变的人口移动。
2. 分类：按照是否跨越国界，分为国际人口迁移和_____人口迁移。
3. 人口迁移对人口数量的影响
- (1)人口迁移使得某一区域的_____发生变化，这种人口数量的变化称为人口机械增长。
- (2)一个国家或地区人口数量的变化是由_____和机械增长共同决定的。

人口增长率 $\left\{ \begin{array}{l} \text{自然增长率} \left\{ \begin{array}{l} \text{为_____时，该区域出生率} > \text{死亡率} \\ \text{为_____时，该区域出生率} < \text{死亡率} \end{array} \right. \\ \text{机械增长率} \left\{ \begin{array}{l} \text{为正时，该区域为人口_____区} \\ \text{为负时，该区域为人口_____区} \end{array} \right. \end{array} \right.$

活动二 影响人口迁移的因素有哪些？读 P9 文字及图 1.12，人口迁移的推力和拉力示意，完成下题。

1. 推拉理论



- (1)推力因素：_____、自然灾害、环境污染、贫困等，迫使人们迁出。
- (2)拉力因素：_____、教育、工作、食物、城市生活、和平、医疗等，促使人们迁入。
2. 影响因素
- (1)自然因素：自然环境优美、_____和资源丰富的地区对人口迁移产生巨大的拉力。环境问题、_____等对人口迁移产生巨大的推力。
- (2)人文因素
- ①经济因素往往对人口迁移起着_____作用。
- ②政治、军事、文化等多种人文因素也会影响人口的迁移。

活动三 人口迁移的影响：读 P9 文字及图 1.11，完成下题。

1. 人口迁移对迁出地和迁入地的影响

| | 有利 | 不利 |
|----|----|----|
| 对迁 | | |

| | | |
|----|--|--|
| 入地 | | |
| 对迁 | | |
| 出地 | | |

活动四 人口迁移的时空特点：读 P13-15 文字及图 1.18-1.19 和图 1.20，完成下题。

1. 国际人口迁移

| | | |
|-----|--------------------------------|-------------------------------------|
| 时期 | 19 世纪以前 | 第二次世界大战以后 |
| 特点 | 以集团性、_____的移民为主；从旧大陆移向新大陆 | 人口从_____流向_____；外籍工人逐渐成为国际人口迁移的主要形式 |
| 迁出地 | 欧洲、_____ | 拉丁美洲、亚洲 |
| 迁入地 | 美洲和_____ | _____、北美洲、西亚和北非石油输出国 |
| 原因 | 地理大发现和_____、欧洲殖民主义扩张 | 迁入地经济发展快；西亚、北非的_____资源开发 |
| 意义 | 在客观上开发了新大陆，传播了工业文明，也改变了人种的空间分布 | 调整了劳动力空间分布不均的状况，促进_____的经济发展 |

2.国内人口迁移

(1)工业化前后国内人口迁移的差异

①工业化以前：大规模的_____、严重的_____、战乱等往往引发国内人口迁移潮。

②工业化以后：人口从_____向城镇的迁移是最为广泛的一种国内人口迁移。

(2)1949 年以来，我国国内人口迁移的两个阶段：

| | | |
|--------|--------------------------------|------------------------|
| 时期 | 特点 | 原因 |
| 改革开放以前 | 有计划、有组织地进行 | 国家实施_____体制和严格的_____制度 |
| 改革开放以后 | 大量_____人口向_____迁移；大量内陆人口迁入沿海地区 | 快速工业化和城镇化的推动；沿海地区经济发展快 |

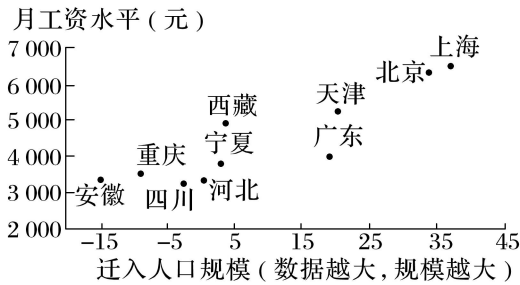
【随堂检测】

下图是“我国部分省份目前迁入人口规模与工资水平相关示意图”。读图，完成 3~5 题。

1. 推测下列影响迁入人口规模的因素中作用最小的是()

A. 工资水平 B. 房价 C. 空间距离 D. 教育资源

2. 根据图示信息，推测未来迁入人口回流规模最大的省份是()



A. 北京 B. 上海 C. 广东 D. 安徽

3. 对西藏当前人口迁移状况原因的解释，正确的是()

①经济、交通的快速发展 ②迷人的风土人情及文化魅力 ③高寒缺氧的自然环境 ④与沿海差异较大的工资水平

A. ①② B. ③④ C. ①④ D. ②③

(2024·山东济南期末)下图为“2017 年长三角城市群流入人口的主要来源地分布图”，图中线条宽度与流入人口占比相关，线条越宽占比越高。读图，完成 3~4 题。

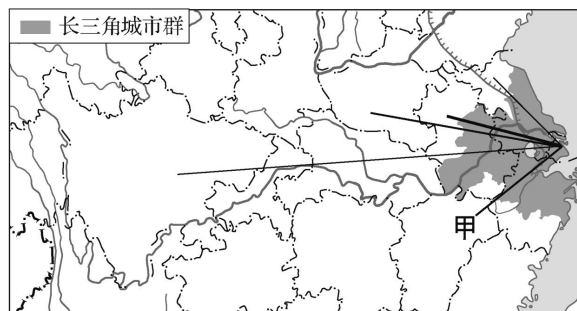
3. 长三角城市群流入人口占比最大的省份是()

A. 安徽省 B. 湖南省
C. 河南省 D. 四川省

4. 甲省人口流入长三角城市群主要考虑()

①工资水平 ②空间距离 ③土地价格 ④环境质量

A. ①② B. ②③ C. ③④ D. ①④



【课后作业】

一、单选题

“候鸟老人”是随季节变化而迁移居住地的老人。据统计，2022 年海南省的“候鸟老人”已超 140 万人，主要来自东北三省、北京市和长三角地区。完成下面小题。

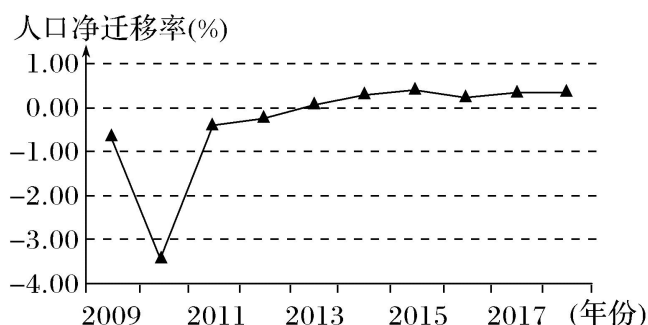
1. 在海南省形成“候鸟老人”现象的首要因素是()

A. 就业机会 B. 机场数量 C. 气候条件 D. 婚姻家庭

2. 海南省的“候鸟老人”集中居住于海口、三亚两地，会促使当地()

A. 人口合理容量增加 B. 第三产业发展
C. 资源环境承载力提高 D. 资源消耗降低

人口净迁移率指一个地区在一定时期内迁入人口数与迁出人口数的差额与总人口数的百分比，下图为安徽省 2009~2018 年常住人口净迁移率变化示意图。据此完成下面小题。



3. 安徽省常住人口从净迁出转变为净迁入的年份是()

- A. 2011 年 B. 2013 年 C. 2015 年 D. 2018 年

4. 近年来，安徽省常住人口净迁移率变化反映了该省（ ）

- A. 外出务工人数增加 B. 投资环境有所改善
C. 常住人口不断减少 D. 老年人口数的减少

归农归村作为韩国政府面向城市居民实施的人口回流诱导政策，也是乡村人才振兴的主要措施。

2013—2018 年，归农和归村人口分别由 10312 人、405452 人增至 12055 人、472474 人，2018 年，韩国的归农归村类型分为 U 型（生于农村，工作于城市，后返回出生地）、J 型（生于农村，工作于城市，后回到其他地区的农村）和 I 型（出生并工作于城市，后迁往农村），其中 U 型占比最高（归农 53%、归村 37.4%）。从年龄分层来看，最常见的归农年龄为 50~59 岁（37.3%），最常见的归村年龄为 30 岁及以下（50%）。完成下面小题。

5. 韩国出现规模化归农归村现象的原因，分析不正确的是（ ）

- A. I 型退休老人有归农情结 B. 城市就业岗位不足
C. 农村自然环境的优势吸引 D. 农村基础设施改善

6. 韩国的规模化归农归村现象产生的影响，分析正确的是（ ）

- A. 使韩国的传统文化受到冲击 B. 降低了农村房屋闲置率
C. 解决了韩国深度老龄化问题 D. 提升了韩国城市化水平

众多曾经从农村到城市打拼的“外来族”选择向农村回归——人们称之为“城归”。经济学家称，“城归”的出现，意味着新的人口红利正在形成。据完成下面小题。

7. “城归”现象出现的主要原因是（ ）

- A. 第一产业成为主导产业 B. 农村投资环境改善
C. 难以适应城市激烈竞争 D. 城市雾霾促使人们逃离

8. “城归”对中国农村产生的影响是（ ）

- A. 加剧农村生态环境恶化 B. 提升农村经济的创新活力
C. 解决农村地区的养老问题 D. 提高农村自然环境承载力

宅基地是农村村民用于建造住宅及其附属设施的集体建设用地，农民拥有使用权而非所有权。鉴于宅基地闲置现象的增长，2023 年国家提出稳慎推进农村宅基地制度改革试点，鼓励农户自愿退出宅基地，获得财产补偿。江苏省“一户多宅”、面积超标、宅基地闲置和农村“空心化”等问题突出，是宅基地改革政策的长期输出地。完成下面小题。

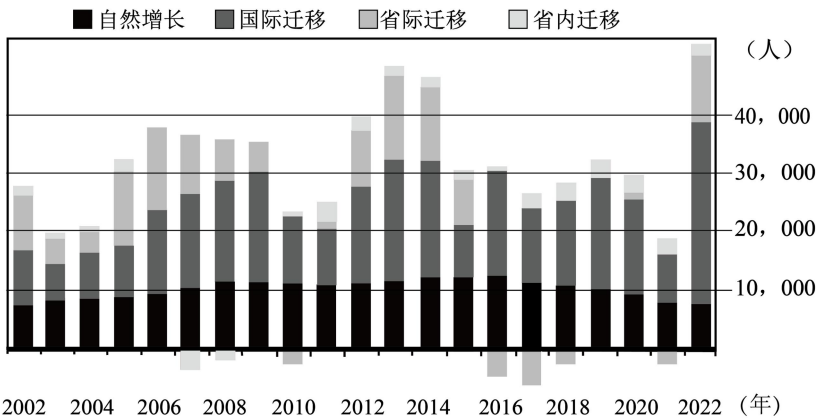
9. 江苏省在宅基地改革中，鼓励农户自愿退出宅基地，获得财产补偿。以下对农户自愿退出宅基地的积极性影响最大的因素是（ ）

- A. 当地房价较高 B. 补偿政策不够完善 C. 就业机会较多 D. 农村基础设施改善

10. 江苏省“一户多宅”、面积超标、宅基地闲置和农村“空心化”等问题突出。从地理角度分析，造成农村“空心化”的主要原因是（ ）

- A. 城镇化进程加快，人口向城市迁移 B. 农村产业发展不足，就业机会少
C. 农村自然环境恶化，不宜居住 D. 农村交通不便，与外界联系困难

卡尔加里是加拿大第四大城市，艾伯塔省第一大城市，环境宜居。下图示意“2002~2022 年卡尔加里人口增长变化”。据此完成下面小题。



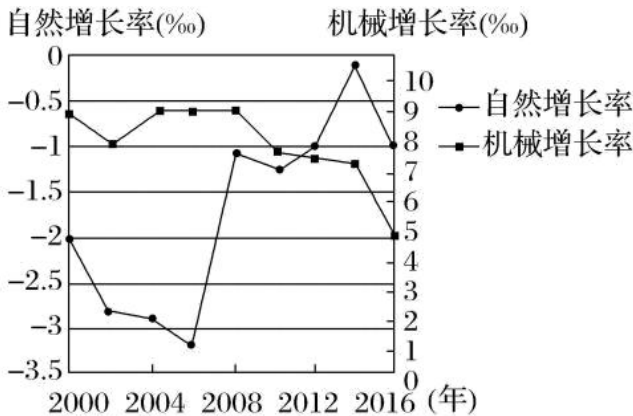
11. 对卡尔加里 2002~2022 年人口数量变化影响最小的是（ ）

- A. 自然增长 B. 省际迁移 C. 国际迁移 D. 省内迁移

12. 该市 2022 年人口增长显著，最可能的原因是（ ）

- A. 当年自然灾害较少 B. 出台鼓励生育政策
C. 降低国际迁入门槛 D. 劳动力随产业转出

人口机械增长率是指某时段迁入人口与迁出人口的差值与总人口的比值。下图为我国东部某地 2000~2016 年人口增长率变动图。读图，完成下面小题。



13. 图中所示时间段，人口总量达最大值的年份是（ ）

- A. 2006 年 B. 2011 年 C. 2014 年 D. 2016 年

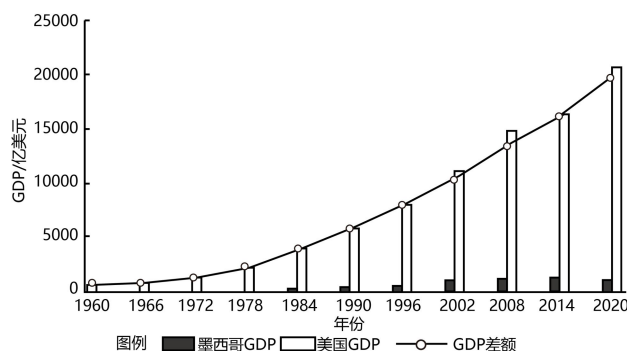
14. 推测该地人口机械增长率变化的主要原因可能是该地 ()

- A. 产业结构调整
B. 城市房价下降
C. 自然灾害频繁
D. 人口自然增长率变化

二、综合题

15. 阅读图文材料，完成下列要求。

21 世纪以来，全球跨国移民数量增长迅速，成为全球化的主要动力之一。美国是世界上最大的移民接收国家，而墨西哥是其最大的移民来源国。下图为美国和墨西哥 GDP 对比示意图。



- (1)简述人口跨国流动对全球化的推动作用。

- (2)简析墨西哥成为美国最大移民来源国的主要原因。

- (3)有人认为墨西哥移民促进了美国社会经济的发展。你是否赞同此观点,并说明理由。