

选必 2 第一章第 1 节 多种多样的区域

班级_____ 姓名_____ 小组_____

一、学习目标

- 1.通过阅读教材、结合实例说明区域的内涵。
- 2.了解区域的分类，并从多种划分角度举例说明不同类型的区域。
- 3.结合案例，理解区域具有不同的发展条件和发展方向。

二、重点、难点

了解区域的分类，并从多种划分角度举例说明不同类型的区域。

三、导学流程

1、区域的概念和内涵

概念	内涵	举例
区域是人们在地球表面划定的_____	区域具有_____、____和_____	云南省轮廓形似孔雀
	有些区域，_____；有些区域，_____	行政区或流域，边界是明确的；自然带或语言区，边界具有过渡性质
	区域内部的特定性质相对一致	湿润区的多年平均降水量都在 800 毫米以上

四、基础感悟

特别提醒

区域≠地域

“区域”和“地域”的实质是一致的，都是指一定范围内的地理空间。但是“区域”是泛指，其范围有大有小；而“地域”一般范围较大，且更强调地方性、景观性，如农业地域、工业地域。

2 区域的类型

由于目的不同,所用的指标和方法不同,人们划分的区域类型也不同。如下表所示:

划分依据	区域类型（举例）	意义
自然特征	中国东部季风区、黄土高原区	了解区域自然和人文地理特征的差异，因地制宜，发展生产
人文特征	汉语北方方言区、长江三角洲城市群	
综合自然特征和人文特征	中国主体功能区是基于资源环境承载力、现有开发密度和发展潜力等，将特定区域确定为特定功能类型的一种空间单元	
特定的行政管理目标	行政区、经济特区、保税区、基本农田保护区	发挥地区优势，促进社会经济发展
	对口支援地区、国家扶贫地区	有助于消除贫困，体现社会公平

	禁止开发区、生态保护区	保护生态环境，实现可持续发展
	历史文化保护区、文化创意产业园区	促进经济发展，保护传统文化，增强文化创新力
实践认知	中国野生稻分布区	为水稻育种专家寻找杂交育种的野生稻提供帮助
	低硒地区	为有效预防克山病提供依据

二、不同空间尺度的区域

1、区域空间尺度


含义	表现	举例
区域的空间尺度可体现为区域的层级高低 区域具有层次性	较高层级的区域往往与较大尺度对应	
	较大尺度的区域可包含若干较小尺度的区域	

2、不同区域空间尺度与区域发展的关系

(1) 不同空间尺度区域的关系

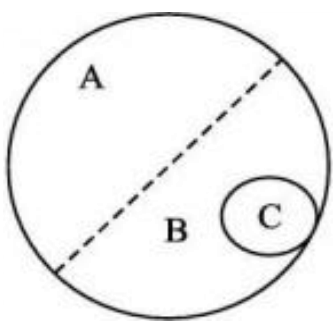
关系	举例
不同尺度的区域发展可以相互促进	
由于存在行政隶属和管辖关系，不同尺度的行政区在区域发展中的地位和作用是不同的	平沙岛基本农田保护区的建设发展，就是不同尺度的行政区发挥各自作用的结果

(2) 同一空间尺度区域的差异

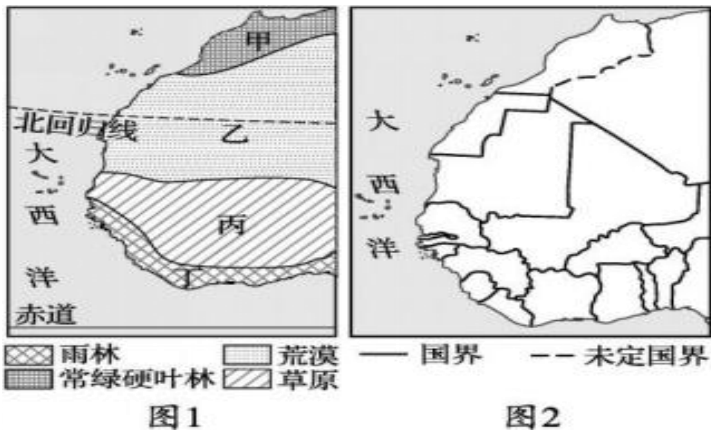
表现	举例
同一尺度的区域，也会因面积大小和地理位置的差异，具有不同的发展条件和不同的发展方向	 <p>中国三大自然区</p> <p>同为国家，俄罗斯领土辽阔，而圣马力诺是袖珍之国。一般而言，大国有大国的优势，如自然资源相对丰富；小国也有小国的长处，如国防开支小、便于管理</p>
	<p>改革开放初期，中国沿海省级行政区利用沿海优势招商引资，经济增长速度明显快于内陆省级行政区</p>

课后检测：

1. 下列区域具有明显界限的是 ()
- ①行政区 ②自然带 ③热量带 ④海口综合保税区 ⑤三江平原 ⑥黄河流域
- A. ①②③ B. ③④⑤ C. ①⑤⑥ D. ①④⑥
2. 我国西北地区深居内陆，并有山岭阻隔，海洋水汽难以进入，年平均降水量由东部的 400 毫米左右往西减少到 200、50 毫米以下。长期的干旱，使这里形成的独特的自然景观。这体现了区域的什么特征 ()
- A. 整体性 B. 差异性 C. 层级性 D. 综合性
3. 下列区域与其划分的行政管理目标对应一致的是 ()
- A. 生态保护区——促进经济发展 B. 基本农田保护区——保护生态环境
- C. 对口支援区——消除贫困、体现社会公平 D. 文化创意产业园区——消除贫
4. 下列区域尺度等级相同的一组为 ()
- A. 东北平原、三江平原 B. 黄河流域、长江流域
- C. 华北地区、华北平原 D. 欧洲、西欧
5. 右图表示不同的区域，实线表示明确的区域边界，虚线表示不明确的区域边界。A(图中大圆)、B、C 所表示的区域可能是 ()
- A. 中国、福建、福州 B. 中国、季风区、福建
- C. 中国、季风区、外流区 D. 中国、长江流域、闽江流域



下图为世界某区域示意图。读图,完成 6~7 题。



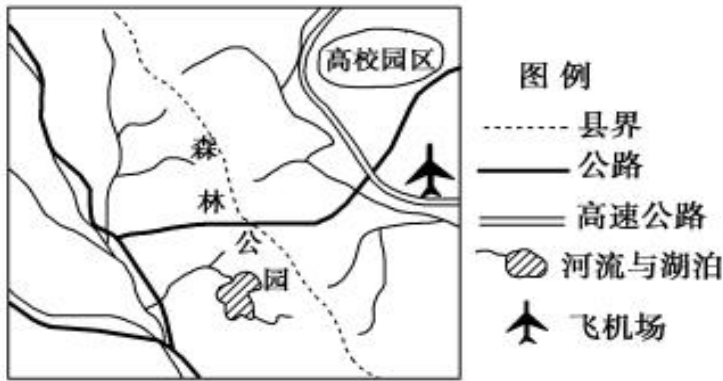
- 6.图 1、图 2 代表的区域分别是()
- A.地形区、自然区 B.行政区、工业区 C.自然区、行政区 D.地形区、工业区

- 7.有关两图中区域划分的叙述,正确的是()
- A.图 1 中区域是按照综合指标划分的 B.图 2 中区域是以经纬线为指标划分的
- C.图 1 中各区域特征差异较大 D.图 2 中区域有大有小,为不同层级的区域

2018 年 10 月 16 日,国务院批复同意设立中国(海南)自由贸易试验区。10 月 29 日,2018“一带一路”媒体合作论坛中国(海南)自由贸易试验区政策介绍会在海南博鳌召开。据此完成 8~9 题。

- 8.划定中国(海南)自由贸易试验区的指标是()
- A.气候 B.经济 C.文化 D.特定的行政管理目标
- 9.中国(海南)自由贸易试验区设立的目的是()
- A.保护生态环境 B.保护传统文化 C.增强文化创新能力 D.促进社会经济发展

下图为某区域示意图, 读图回答 10~11 题。



10. 图示区域中, 县界划分的主要依据及其属性可能是()
- A. 河流、明确的 B. 湖泊、模糊的
- C. 交通线、模糊的 D. 山脉、明确的
11. 根据图示信息分析, 该区域最适宜发展的是()
- A. 化学工业 B. 建材工业 C. 电子工业 D. 纺织工业